

MATEMATIKA ÉRETTSÉGI TÍPUSFELADATOK KÖZÉPSZINT

Statisztika

A szürkített háttérű feladatrészek nem tartoznak az érintett témakörhöz, azonban szolgálhatnak fontos információval az érintett feladatrészek megoldásához!

- 1) Egy dolgozatnál az elérhető legmagasabb pontszám 100 volt. 15 tanuló eredményeit tartalmazza a következő táblázat:

Elért pontszám	100	95	91	80	65	31	17	8	5
A dolgozatok	3	2	1	2	1	2	2	1	1

- a) Határozza meg az összes dolgozat pontszámának átlagát (számtani közepét), móduszát és mediánját! (5 pont)
- b) A dolgozatok érdemjegyeit az alábbi táblázat alapján kell megállapítani!

Pontszám	Osztályzat
80-100	jeles
60-79	jó
40-59	közepes
20-39	elégseges
0-19	elégtelen

Ennek ismeretében töltsse ki a következő táblázatot! (2 pont)

Osztályzat	jeles	jó	közepes	elégseges	elégtelen
A dolgozatok száma					

- c) Készítsen kördiagramot az osztályzatok megoszlásáról! Adja meg az egyes körcikkekhez tartozó középponti szögek értékét is! (5 pont)
- 2) A fizika órai tanulókísérlet egy tömegmérési feladat volt. A mérést 19 tanuló végezte el. A mért tömegre gramm pontossággal a következő adatokat kapták: 37, 33, 37, 36, 35, 36, 37, 40, 38, 33, 37, 36, 35, 35, 38, 37, 36, 35, 37.
- a) Készítse el a mért adatok gyakorisági táblázatát! (3 pont)
- b) Mennyi a mérési adatok átlaga gramm pontossággal? (3 pont)
- c) Mekkora a kapott eredmények mediánja, módusza? (2 pont)
- d) Készítsen oszlopdiagramot a mérési eredményekről! (4 pont)
- 3) Egy osztály történelem dolgozatot írt. Öt tanuló dolgozata jeles, tíz tanulóé jó, három tanulóé elégseges, két tanulóé elégtelen dolgozatot írt.
- a) Hányan írtak közepes dolgozatot, ha tudjuk, hogy az osztályátlag 3,410-nál nagyobb és 3,420-nál kisebb? (10 pont)
- b) Készítsen gyakorisági táblázatot, és ábrázolja oszlop-diagrammal az osztályzatok gyakoriságát! (4 pont)
- c) A párhuzamos osztályban 32 tanuló írta meg ugyanezt a dolgozatot, és ott 12 közepes dolgozat született. Melyik osztályban valószínűbb, hogy a dolgozatok közül egyet véletlenszerűen elővéve éppen közepes dolgozat kerül a kezünkbe? (3 pont)

- 4) Az alábbi adatok március első hetében mért napi hőmérsékleti maximumok (az adatokat °C-ban mérték):

hétfő	kedd	szerda	csütörtök	péntek	szombat	vasárnap
5,2	1,6	3,1	-0,6	-1,1	1,6	0

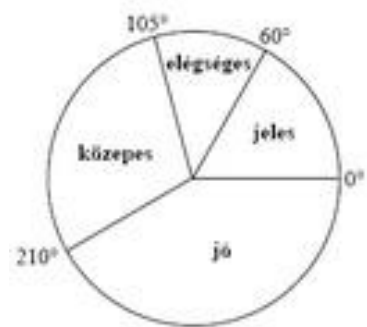
Mennyi volt ezen a héten a hőmérsékleti maximumok átlaga? (2 pont)

- 5) A 12. évfolyam tanulói magyarból próbaérettségit írtak. Minden tanuló egy kódszámot kapott, amely az 1, 2, 3, 4 és 5 számjegyekből mindegyiket pontosan egyszer tartalmazta valamilyen sorrendben.

a) Hány tanuló írta meg a dolgozatot, ha az összes képezhető kódszámot mind kiosztották? (3 pont)

b) Az alábbi kördiagram a dolgozatok eredményét szemlélteti:

Adja meg, hogy hány tanuló érte el a szereplő érdemjegyeket! Válaszát foglalja táblázatba, majd a táblázat adatait szemléltesse oszlop-diagramon is! (6 pont)



c) Az összes megírt dolgozathoz véletlenszerűen kiválasztunk egyet. Mennyi a valószínűsége annak, hogy jeles vagy jó dolgozatot veszünk a kezünkbe? (3 pont)

- 6) Egy márciusi napon öt alkalommal mérték meg a külső hőmérsékletet. A kapott adatok átlaga 1 °C, mediánja 0 °C. Adjon meg öt ilyen lehetséges hőmérséklet értéket! (4 pont)

- 7) Egy tanulmányi verseny döntőjében 8 tanuló vett részt. Három feladatot kellett megoldaniuk. Az első feladat maximálisan elérhető pontszáma 40, a másodiké 50, a harmadiké 60. A nyolc versenyző feladatonkénti eredményeit tartalmazza az alábbi táblázat:

Versenyző sorszáma	I.	II.	III.	Összpontszám	Százalékos teljesítmény
1.	28	16	40		
2.	31	35	44		
3.	32	28	56		
4.	40	42	49		
5.	35	48	52		
6.	12	30	28		
7.	29	32	45		
8.	40	48	41		

a) Töltse ki a táblázat hiányzó adatait! A százalékos teljesítményt egészre kerekítve adja meg!

Melyik sorszámú versenyző nyerte meg a versenyt, ki lett a második, és ki a harmadik helyezett? (5 pont)

b) A nyolc versenyző dolgozata közül véletlenszerűen kivesszünk egyet. Mennyi a valószínűsége annak, hogy 75%-osnál jobb teljesítményű dolgozat került a kezünkbe? (2 pont)

c) Egy tanuló betegség miatt nem tudott megjelenni a döntőn. Másnap megkapta, és megoldotta a feladatokat. Eredményét később összehasonlította a nyolc döntős versenyző eredményével. Észrevette, hogy az első feladatot a versenyzők I. feladatra kapott pontszámainak a mediánjára teljesítette (egészre kerekítve), a második feladatot pedig a nyolc versenyző II. feladata pontszámainak a számtani közepére (szintén egészre kerekítve). A III. feladatot 90%-ra teljesítette.
Mennyi lett ennek a tanulónak az összpontszáma? Ezzel hányadik helyen végzett volna? (5 pont)

8) Máté a tanév során 13 érdemjegyet kapott matematikából. Ezek időrendben: 4, 4, 3, 4, 4, 2, 5, 4, 3, 1, 3, 3, 2. Adja meg a jegyek móduszát és mediánját! (2 pont)

9) Egy gimnáziumban 50 diák tanulja emelt szinten a biológiát. Közülük 30-an tizenegyedikesek és 20-an tizenkettedikesek. Egy felmérés alkalmával a tanulóktól azt kérdezték, hogy hetente átlagosan hány órát töltenek a biológia házi feladatok megoldásával. A táblázat a válaszok összesített eloszlását mutatja.

A biológia házi feladatok megoldásával hetente eltöltött órák száma*	0-2	2-4	4-6	6-8	8-10
Tanulók száma	3	11	17	15	4

* A tartományokhoz az alsó határ hozzátartozik, a felső nem.

a) Ábrázolja oszlopdiagramon a táblázat adatait! (3 pont)

b) Átlagosan hány órát tölt a biológia házi feladatok megoldásával hetente ez az 50 tanuló? Az egyes időintervallumok esetében a középértékekkel (1, 3, 5, 7 és 9 órával) számoljon! (3 pont)

Egy újságíró két tanulóval szeretne interjút készíteni. Ezért a biológiát emelt szinten tanuló 50 diák névsorából véletlenszerűen kiválaszt két nevet.

c) Mennyi a valószínűsége annak, hogy az egyik kiválasztott tanuló tizenegyedikes, a másik pedig tizenkettedikes? (6 pont)

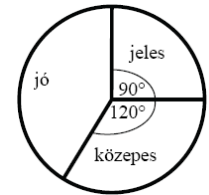
d) Mennyi a valószínűsége annak, hogy mindkét kiválasztott tanuló legalább 4 órát foglalkozik a biológia házi feladatok elkészítésével hetente? (5 pont)

10) Öt szám átlaga 7. Az öt szám közül négyet ismerünk, ezek az 1, a 8, a 9 és a 12. Határozza meg a hiányzó számot! Válaszát számítással indokolja! (3 pont)

11) Rozi irodalomból a tanév során a következő jegyeket kapta: 2; 4; 3; 5; 2; 4; 5; 3; 5. Mi lenne az év végi osztályzata, ha az a kapott jegyek mediánja lenne? (2 pont)

12) A kézilabdaedzéseken 16 tanuló vesz részt, átlagmagasságuk 172 cm. Mennyi a magasságaik összege? (2 pont)

- 13) Egy iskolában 120 tanuló érettségizett matematikából. Nem volt sem elégtelen, sem elégséges dolgozat. Az eredmények eloszlását az alábbi kördiagram szemlélteti.
Hányan kaptak jeles, jó, illetve közepes osztályzatot? (3 pont)



- 14) Számítsa ki a 12 és 75 számok mértani közepét! (2 pont)
- 15) Egy 2000. január elsejei népesség-statisztika szerint a Magyarországon élők kor és nem szerinti megoszlása (ezer főre) kerekítve az alábbi volt:

Korcsoport (év)	Férfiak száma (ezer fő)	Nők száma (ezer fő)
0 - 19	1214	1158
20 - 39	1471	1422
40 - 59	1347	1458
60 - 79	685	1043
80 -	75	170

- a) Melyik korcsoport volt a legnépesebb? A táblázat adatai alapján adja meg, hogy hány férfi és hány nő élt Magyarországon 2000. január elsején? (3 pont)
- b) Ábrázolja egy közös oszlopdiagramon, két különböző jelölésű oszloppal a férfiak és a nők korcsoportok szerinti megoszlását! (5 pont)
- c) Számítsa ki a férfiak százalékos arányát a 20 évnél fiatalabbak korcsoportjában, valamint a legalább 80 évesek között! (4 pont)
- 16) Számítsa ki 25 és 121 számtani és mértani közepét! (2 pont)
- 17) Melyik az a legnagyobb szám az alábbi 12 szám közül, amelynek elhagyásával a megmaradt 11 szám mediánja 6?
6; 4; 5; 5; 1; 10; 7; 6; 11; 2; 6; 5 (2 pont)
- 18) Az alábbi táblázat egy 7 fős csoport tagjainak cm-ben mért magasságait tartalmazza. Mekkora a csoport átlagmagassága? A csoport melyik tagjának a magassága van legközelebb az átlagmagassághoz?

Anna	Bea	Marci	Karcsi	Ede	Fanni	Gábor
15	158	168	170	170	174	183
5						

- (3 pont)
- 19) Egy 17 fős csoport matematika témazáró dolgozatának értékelésekor a tanár a következő információkat közölte:
Mind a 17 dolgozatot az 1-es, a 2-es, a 3-as, a 4-es és az 5-ös jegyek valamelyikével osztályozta.
A jegyek mediánja 4, módusza 4, terjedelme 4 és az átlaga (két tizedes jegyre kerekítve) 3,41.
Döntse el, hogy az alábbi állítások közül melyik igaz, illetve hamis!
- a) A dolgozatoknak több mint a fele jobb hármasnál. (1 pont)
- b) Nincs hármasnál rosszabb dolgozat. (1 pont)
- 20) Számítsa ki azt a két pozitív számot, amelyek számtani (aritmetikai) közepe 8, mértani (geometria) közepe pedig 4,8. (12 pont)

21) Megkérdeztek 25 családot arról, hogy hány forintot költöttek az elmúlt hónapban friss gyümölcsre. A felmérés eredményét mutatja az alábbi táblázat:

3500	4500	5600	4000	6800
4000	3400	5600	6200	4500
500	5400	2500	2100	1500
9000	1200	3800	2800	4500
4000	3000	5000	3000	5000

(Az adatokat tekintjük pontos értékeknek!)

- a) Hány forintot költöttek átlagosan ezek a családok friss gyümölcs vásárlására az elmúlt hónapban? (3 pont)
- b) Ossa 1000 Ft terjedelmű osztályokba a fenti értékeket, kezdve a 0-1000 Ft, 1001-2000 Ft stb. osztályokkal, és ábrázolja ezeknek az osztályoknak a gyakoriságát oszlopdiagramon! (5 pont)
- c) Az 500 Ft és a 9000 Ft kiugró értékek. (6 pont)

Mennyi a megmaradt adatok átlaga, ha ezeket a kiugró értékeket elhagyjuk az adatok közül?

Hány százalékos változást jelent ez az eredeti átlaghoz képest, és milyen irányú ez a változás?

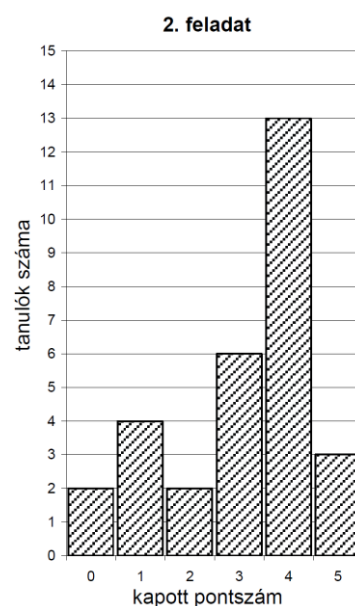
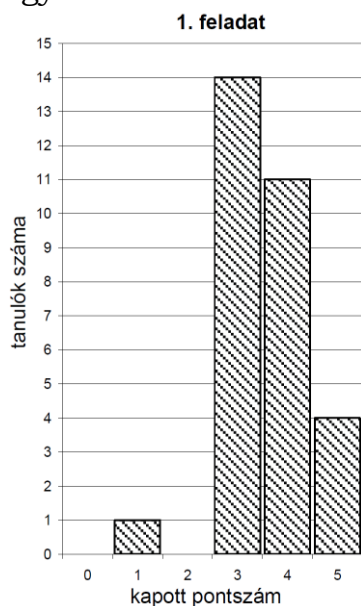
Mennyi az így keletkezett új adatsor terjedelme?

(Az átlagot forintra, a százaléklábat két tizedesjegyre kerekítve adja meg!)

- d) Az eredeti mintát a vizsgálatot végző cég két új család megfelelő adatával bővítette. Az egyik az eredeti átlagnál 1000 Ft-tal többet, a másik ugyanennyivel kevesebbet költött havonta friss gyümölcsre.

Mutassa meg számítással, hogy így az átlag nem változott! (3 pont)

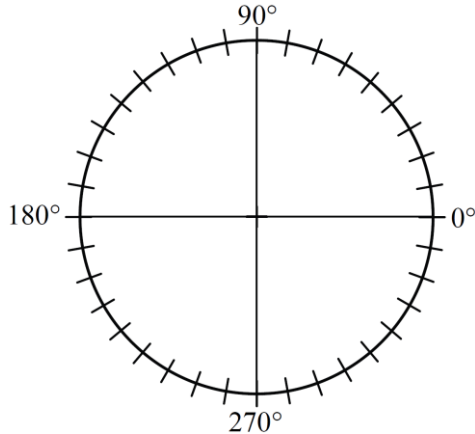
22) Egy iskolai tanulmányi verseny döntőjébe 30 diák jutott be, két feladatot kellett megoldaniuk. A verseny után a szervezők az alábbi oszlopdiagramokon ábrázolták az egyes feladatokban szerzett pontszámok eloszlását:



- a) A diagramok alapján töltsse ki a táblázat üres mezőit! Az első feladatra kapott pontszámok átlagát két tizedes jegyre kerekítve adja meg! (3 pont)

	1. feladat	2. feladat
pontszámok átlaga		3,10
pontszámok mediánja		

- b) A megfelelő középponti szögek megadása után ábrázolja kördiagramon a 2. feladatra kapott pontszámok eloszlását! (4 pont)



- c) A versenyen minden tanuló elért legalább 3 pontot. Legfeljebb hány olyan tanuló lehetett a versenyzők között, aki a két feladat megoldása során összesen pontosan 3 pontot szerzett? (5 pont)

23) Adja meg a 2; 11; 7; 3; 17; 5; 13 számok mediánját! (2 pont)

24) Egy felmérés során két korcsoportban összesen 200 embert kérdeztek meg arról, hogy évente hány alkalommal járnak színházba. Közülük 120-an 40 évesnél fiatalabbak, 80 válaszadó pedig 40 éves vagy annál idősebb volt. Az eredményeket (százalékos megoszlásban) az alábbi diagram szemlélteti.

a) Hány legalább 40 éves ember adta azt a választ, hogy 5-nél kevesebbszer volt színházban? (3 pont)

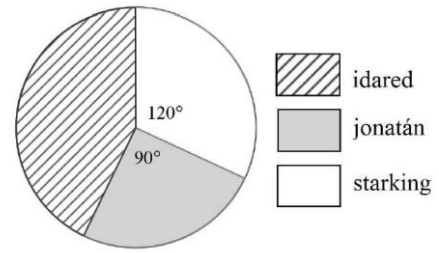
b) A megkérdezettek hány százaléka jár évente legalább 5, de legfeljebb 10 alkalommal színházba? (4 pont)

c) A 200 ember közül véletlenszerűen kiválasztunk kettőt. Mekkora a valószínűsége annak, hogy közülük legfeljebb az egyik fiatalabb 40 évesnél? (5 pont)

Válaszát három tizedesjegyre kerekítve adja meg! (5 pont)

27) Egy gyümölcsáros háromféle almát kínál a piacon. A teljes készletről kördiagramot készítettünk.

Írja a táblázat megfelelő mezőibe a hiányzó adatokat!
(3 pont)



Alma fajtája	A körcikk középponti szöge (fok)	Mennyiség (kg)
jonatán	90	
idared		
starking	120	48

28) Egy végzős osztály diákjai projekt munka keretében különböző statisztikai felméréseket készítettek az iskola tanulóinak körében.

a) Éva 150 diákot kérdezett meg otthonuk felszereltségéről. Felméréséből kiderült, hogy a megkérdezettek közül kétszer annyian rendelkeznek mikrohullámú sütővel, mint mosogatógéppel. Azt is megtudta, hogy 63-an mindkét géppel, 9-en egyik géppel sem rendelkeznek. A megkérdezettek hány százalékának nincs otthon mikrohullámú sütője? (6 pont)

b) Jóska a saját felmérésében 200 diákot kérdezett meg arról, hogy hány számítógépük van a háztartásban. A válaszokat a következő táblázatban összesítette:

A számítógépek száma a háztartásban	Gyakoriság
0	3
1	94
2	89
3	14

Jóska felmérése alapján töltsse ki az alábbi táblázatot az egy háztartásban található számítógépek számáról!
(4 pont)

A számítógépek számának átlaga	
A számítógépek számának mediánja	
A számítógépek számának módusza	

- c) Tamás a saját felmérése alapján a következőt állítja:

Minden háztartásban van televízió.

Az alábbi négy állítás közül válassza ki azt a kettőt, amely Tamás állításának tagadása!

- A) Semelyik háztartásban nincs televízió.
B) Van olyan háztartás, ahol van televízió.
C) Van olyan háztartás, ahol nincs televízió.
D) Nem minden háztartásban van televízió.

(2 pont)

- 29) Kóstolóval egybekötött termékbemutatót tartottak egy új kávékeverék piaci megjelenését megelőzően. Két csoport véleményét kérték úgy, hogy a terméket az 1-től 10-ig terjedő skálán mindenkinek egy-egy egész számmal kellett értékelnie. Mindkét csoport létszáma 20 fő volt. A csoportok értékelése az alábbi táblázatban látható.

pontszám	1	2	3	4	5	6	7	8	9	10
gyakoriság az 1. csoportban	0	0	1	0	6	8	2	2	1	0
gyakoriság a 2. csoportban	0	8	0	2	0	1	0	0	0	9

- a) Ábrázolja közös oszlopdiagramon, különböző jelölésű oszlopokkal a két csoport pontszámait! A diagramok alapján fogalmazzon meg véleményt arra vonatkozóan, hogy melyik csoportban volt nagyobb a pontszámok szórása! Véleményét a diagramok alapján indokolja is! (5 pont)
- b) Hasonlítsa össze a két csoport pontszámainak szórását számítások segítségével is! (5 pont)

Kétféle kávéból 14 kg 4600 Ft/kg egységárú kávékeveréket állítanak elő. Az olcsóbb kávéfajta egységára 4500 Ft/kg, a drágábbé pedig 5000 Ft/kg.

- c) Hány kilogramm szükséges az egyik, illetve a másik fajta kávéból?

(7 pont)

- 30) Egy kis cégnél nyolcan dolgoznak: hat beosztott és két főnök. A főnökök átlagos havi jövedelme 190 000 Ft, a beosztottaké 150 000 Ft. Hány forint a cég nyolc dolgozójának átlagos havi jövedelme? (2 pont)

- 31) Réka év végi bizonyítványában a következő osztályzatok szerepelnek: 4; 2; 3; 5; 5; 4; 5; 5; 4. Adja meg Réka osztályzatainak móduszát és mediánját! (2 pont)

- 32) Az egyik világbajnokságon részt vevő magyar női vízilabdacsapat 13 tagjának életkor szerinti megoszlását mutatja az alábbi táblázat.

Életkor	17	18	19	21	22	23	24	25	26	31
Gyakoriság	2	1	1	1	2	1	2	1	1	1

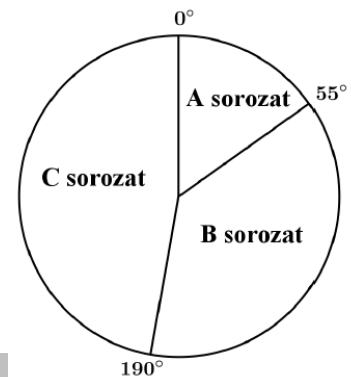
- a) Számítsa ki a csapat átlagéletkorát! (2 pont)
Jelölje A azt az eseményt, hogy a csapatból 7 játékost véletlenszerűen kiválasztva, a kiválasztottak között legfeljebb egy olyan van, aki 20 évnél fiatalabb.
- b) Számítsa ki az A esemény valószínűségét! (8 pont)

A világbajnokság egyik mérkőzésén a magyar kezdőcsapat 6 mezőnyjátékosáról a következőket tudjuk:

- a legidősebb és a legfiatalabb játékos életkorának különbsége 12 év,
- a játékosok életkorának egyetlen módusza 22 év,
- a hat játékos életkorának mediánja 23 év,
- a hat játékos életkorának átlaga 24 év.

Adja meg a kezdőcsapat hat mezőnyjátékosának életkorát! (7 pont)

33) Egy közvélemény-kutató intézet azt a feladatot kapta, hogy két alkalommal – fél év különbséggel – mérje fel a TV-ben látható három filmsorozat nézettségi adatait. Az ábrán látható kérdőíven a válaszoló vagy azt jelölhette be, hogy az A, B, és C sorozatok közül melyiket nézi (akár többet is meg lehetett jelölni), vagy azt, hogy egyiket sem nézi. Az első felméréskor kapott 600 kérdőív jelöléseit összesítve megállapították, hogy az A sorozat összesen 90 jelölést kapott, a B sorozat összesen 290-et, a C sorozat pedig összesen 230-at. Érdekes módon olyan válaszadó nem volt, aki pontosan két sorozatot nézett volna, viszont 55-en mindhárom sorozatot bejelölték.



a) A válaszolók hány százaléka nézte az A sorozatot?

b) Hány válaszoló nem nézte egyik sorozatot sem?

(5 pont)

A második felmérés során kiválogatták azokat a kérdőíveket, amelyeken valamelyik sorozat meg volt jelölve. Ezeken a három sorozat nézettségére összesen 576 jelölés érkezett. Az adatok feldolgozói minden jelölést megszámoztak, és a végeredményről az itt látható kördiagramot készítették.

c) Számítsa ki, hogy az egyes sorozatok nézettségére hány jelölés érkezett!

(5 pont)

34) Egy focicsapat 11 játékosa megérkezik az edzésre, néhányan kezdet fogtak egymással. (Két játékos között legfeljebb egy kézfogás történik.) Az edző felírta, hogy ki hányszor fogott kezdet, és a következő számokat kapta: 0; 1; 2; 2; 2; 5; 0; 0; 4; 4; 2.

a) Ábrázolja a kézfogásoknak egy lehetséges gráfját, ahol a pontok a játékosokat jelölik, és két pont között akkor van él, ha az illetők kezdet fogtak az edzés előtt!

(3 pont)

b) Hány kézfogás történt összesen?

(2 pont)

Egy másik alkalommal az edző által feljegyzett 11 nemnegatív egész számról a következőket állapítottuk meg: a számok egyetlen módusza 2, mediánja 3, átlaga 4, terjedelme pedig 5 volt.

c) Adjon meg a fenti feltételeknek megfelelő 11 nemnegatív egész számot!

(5 pont)

Az edzésen a játékosok a tizenegyesrúgást gyakorolják. Az egyik játékos 0,9 valószínűséggel lövi be a tizenegyest.

d) Mennyi a valószínűsége annak, hogy három rúgásból legalább egyszer betalál? A valószínűség pontos értékét adja meg!

(7 pont)

35) Egy mérőállomáson az egyik év júliusának tizenhárom egymást követő napján az alábbi csapadékértékeket mérték (milliméterben): 2; 26; 8; 1; 21; 10; 22; 49; 5; 25; 9. Adja meg az adatsor terjedelmét és mediánját!

(3 pont)

- 36) Egy webáruházba való belépés előzetes regisztrációhoz kötött, melynek során a regisztráló életkorát is meg kell adnia. Az adatok alapján a 25560 regisztráló közül 28 évesnél fiatalabb 7810 fő, 55 évesnél idősebb 4615 fő, a többiek 28 és 55 év közöttiek.
- a) Készítsen a létszámadatok alapján kördiagramot, kiszámítva a három körcikkhez tartozó középponti szögeket is! (5 pont)
- A webáruház üzemeltetői a vásárlói szokásokat szeretnék elemezni, ezért a regisztráltak közül véletlenszerűen kiválasztanak két személyt.
- b) Adja meg annak a valószínűségét, hogy az egyik kiválasztott személy 28 évesnél fiatalabb, a másik 55 évesnél idősebb! (4 pont)
- A regisztráltak egy része vásárol is a webáruházban. A vásárlók között a 28 év alattiak éppen kétszer annyian vannak, mint az 55 évesnél idősebbek. A 28 év alattiak az elmúlt időszakban összesen 19 325 700 Ft, az 55 év felettiak 17 543 550 Ft értékben vásároltak. Az 55 év felettiak átlagosan 2410 Ft-al költöttek többet, mint a 28 év alattiak.
- c) Számítsa ki, hány 55 év feletti vásárlója volt a webáruháznak, és adja meg, hogy ezek a vásárlók átlagosan mennyit költöttek! (8 pont)